

# 立體圖形總結

## 1. 角柱、圓柱、角錐、圓錐


	角柱	圓柱	角錐	圓錐
側面是平面或曲面?	平面	曲面	平面	曲面
側面的形狀	四邊形	×	三角形	×
底的數量	2個	2個	1個	1個

## 2. 球體

球體只有一個面，它的面是一個曲面。

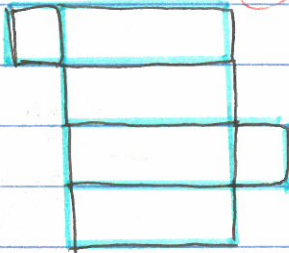
## 3. 摺紙圖樣

(a)



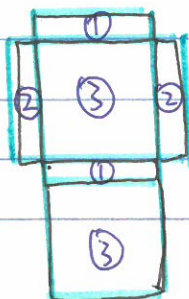
這個正方體摺紙圖樣由 6 個大小相同的正方形組成。

(b)



這個長方體摺紙圖樣由 2 個大小相同的正方形和 4 個大小相同的長方形組成。

(c)



這個長方體摺紙圖樣由 3 組大小分別相同的長方形組成。(上圖中相同的數字表示大小相同的面。)