

審題技巧 (2)

審題策略：「比」的概念




積分： $\frac{6}{6}$ 4-04-2023
日期：3-4-2023

一、細閱下列應用題，把正確答案旁的圓圈塗黑。


1. 文具店有鉛筆 37 枝，原子筆比鉛筆多 12 枝，毛筆比原子筆少 10 枝。把筆的數目由多至少排出來。

- A. 原子筆，鉛筆，毛筆。
- B. 鉛筆，原子筆，毛筆。
- C. 原子筆，毛筆，鉛筆。
- D. 毛筆，鉛筆，原子筆。



2. 「麵包店生產了菠蘿包 74 個，叉燒包 42 個。」
以下哪一項是不正確的描述？

- A. 麵包店共生產了麵包 116 個。
- B. 叉燒包的數目比菠蘿包的數目多 32 個。
- C. 菠蘿包的數目比叉燒包的數目多 32 個。



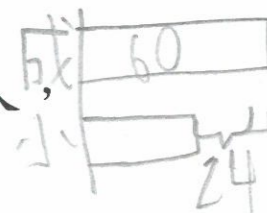
二、列式計算題：

3. 停車場有私家車 74 輛，貨車比私家車多 29 輛，
停車場內有貨車多少輛？

$74 + 29$ $= 103$ ∴ 停車場內有貨車 103 輛	<table border="1"> <tr> <td>74</td> </tr> <tr> <td>+ 29</td> </tr> <tr> <td>103</td> </tr> </table>	74	+ 29	103
74				
+ 29				
103				


P.11

4. 公園裏有成年人 60 人，比小童多 24 人，
公園裏有小童多少人？



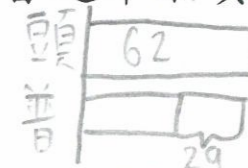
$60 - 24$ $= 36$ ∴ 公園裏有小童 36 人	<table border="1"> <tr> <td>60</td> </tr> <tr> <td>- 24</td> </tr> <tr> <td>36</td> </tr> </table>	60	- 24	36
60				
- 24				
36				

5. 小林購買了手工紙一包，其中有黃色手工紙 100 張，
綠色手工紙比黃色手工紙少 14 張，紅色手工紙比黃色手工紙多 39 張，紅色手工紙有多少張？



$100 + 39$ $= 139$ ∴ 紅色手工紙有 139 張	<table border="1"> <tr> <td>100</td> </tr> <tr> <td>+ 39</td> </tr> <tr> <td>139</td> </tr> </table>	100	+ 39	139
100				
+ 39				
139				

6. 火車頭等車廂票值是 62 元，比普通車廂貴 29 元，
普通車廂的票價是多少元？



$62 - 29$ $= 33$ ∴ 普通車廂的票價是 33 元	<table border="1"> <tr> <td>62</td> </tr> <tr> <td>- 29</td> </tr> <tr> <td>33</td> </tr> </table>	62	- 29	33
62				
- 29				
33				

P.12